




TEMA 1

1. Il candidato elenchi e descriva gli interventi di recupero del patrimonio edilizio esistente previsti dall'articolo 77 "*Categorie di intervento*" della L.P. 15 agosto 2015, n. 15.
2. L'Amministrazione comunale intende realizzare un parcheggio pubblico, su un'area privata di circa 3.000 mq, a destinazione urbanistica compatibile (zona a parcheggio pubblico di progetto). Il candidato predisponga un documento da sottoporre alla Giunta atto ad illustrare le procedure tecnico-amministrative necessarie per la futura realizzazione dell'opera, descriva i vincoli, le indagini da eseguire sull'area e rediga il relativo quadro economico dell'opera con individuazione delle relative voci.
3. Su di una strada provinciale che attraversa l'abitato l'Amministrazione Comunale deve provvedere alla sostituzione di 200 m. (sezione di scavo altezza 1,00 m. e larghezza di scavo 0,60 m) di tubazione per acquedotto del Ø 125 PN 16. Il candidato predisponga il computo metrico per realizzare l'intervento, indicando una breve descrizione delle voci tenendo conto che nel tratto interessato dalla posa del nuovo acquedotto troverà l'attraversamento di n. 10 sotto servizi esistenti da mantenere in opera.



TEMA 3

1. Permesso di costruire in sanatoria e Permesso di costruire in deroga. Il candidato descriva le caratteristiche dei due titoli edilizi: inquadramento giuridico e presupposti per il loro rilascio.
2. Il candidato illustri cosa sono il Piano di Sicurezza e Coordinamento (PSC), il Piano Operativo di Sicurezza (POS) e il Documento Unico di Valutazione del Rischio e Interferenze (DUVRI).
3. E' stata segnalata la presenza di acqua che esce dal sottosuolo in una via del paese a causa di una rottura sulla tubazione dell'acquedotto comunale. Il candidato illustri i passaggi amministrativi, tecnici ed operativi necessari per realizzare l'intervento.

